

2019-2020 学年度第一学期期中练习
小学二年级数学试题

题号	一	二	三	四	五	总分	等第
得分							

(卷面满分: 100 分; 答卷时间: 60 分钟)

一、计算题。(25 分)

1、直接写出得数。(16 分)

20-4=	6×1=	5+44=	5×2+9=
2×2=	4×5=	18÷6=	2×4+6=
30÷5=	36-6=	3×4=	6×5-9=
3+6=	5×3=	24÷6=	3×3+3=

2、列竖式计算。(9 分)

81-28-17=	60-21+39=	37+25+16=
-----------	-----------	-----------

二、填空题。(32 分) (第一题 6 分, 第五题 5 分, 其余每空 1 分)

1、



(1) 有 () 盘桃子, 每盘 () 个, 一共有 () 个桃。

算式: _____

(2) 一共有 () 个桃, 平均分成 () 盘, 每盘 () 个。

算式: _____

(3) 一共有 () 个桃, 每盘 () 个, 分成了 () 盘。

算式: _____

2、除数是 6, 商是 3, 被除数是 ()。

3、在○里填上“>”“<”“=”。

$6+6 \bigcirc 6 \times 6$

$54+8 \bigcirc 10+52$

$86-9 \bigcirc 83$

$3 \times 6 \bigcirc 26-9$

$5-5 \bigcirc 5 \div 5$

$12 \div 4 \bigcirc 6 \div 2$

学号

姓名

班级

学校

4、填口诀，并写出两道乘法算式和两道除法算式。

二 () 一 十

5、 $5+5+5+5=() \times ()$

$4 \times 3 + 3 = () \times ()$

$() \times 2 = () \div 6 = 11 - 7 = () + ()$

6、2个6相加的和是()；2个6相乘是()；2和6相加的和是()。

7、小明有30块糖，小星的糖比小明多，小红的糖比小明少。小星最少有()块糖，小红最多有()块糖。

8、小丽有22本书，小花有10本书。小花再买()本，两人就同样多。小丽给小花()本，两人就同样多。

9、有21个桃，至少再添上()个，就可以平均分给5只小猴。

10、有一堆巧克力，比20块多，比30块少。平均分给一些小朋友，每人分得的块数和小朋友的人数同样多。可能有()块巧克力。

三、选择题（请将正确答案的序号填在括号内）。（8分）

1、有2个盘子，一盘放6个苹果，另一盘放5个苹果，一共有多少个苹果？

正确的列式是()。 ① 6×2 ② 5×2 ③ $6 + 5$

2、可以用 3×4 表示的算式是()。

① $3 + 4$ ② $4 + 4 + 4$ ③ $3 + 3 + 3$

3、第()题的得数是六十多。

① $32 + 25$ ② $81 - 26$ ③ $45 + 18$

4、从30里面连续减去6，减()次刚好减完。

① 4次 ② 5次 ③ 6次

5、下面算式中，与 $24 \div 6$ 得数相同的式子是()。

① $15 \div 3$ ② 2×2 ③ $36 \div 6$

6、把一张正方形纸剪下一个角，剩下的不可能是()。

① 正方形 ② 三角形 ③ 四边形

7、 $35 > \square \times 6$ ， \square 里最大能填()。

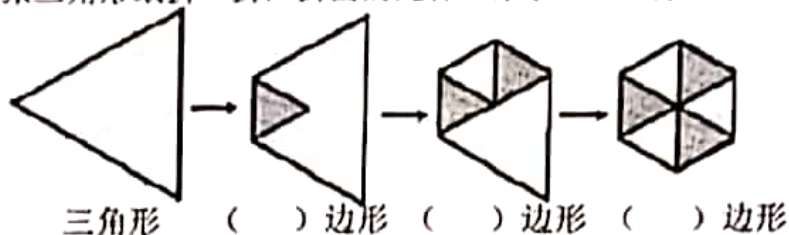
① 6 ② 5 ③ 4

8、二年级有男生25名，女生26名，把50本练习本分给他们每人一本，

够分吗？() ① 够 ② 不够 ③ 不确定

四、操作题。(10分)

- 1、把一张三角形纸折一折，折出的是什么形状？(3分)

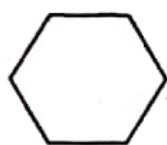


- 2、在下面图形上画一条线，把它按要求分成两个图形。(1分)

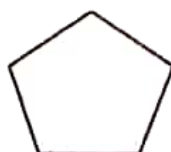
一个三角形和一个平行四边形



- 3、把下面图形都分成三角形，最少能分成几个？先画再填空。(2分)




() 个三角形



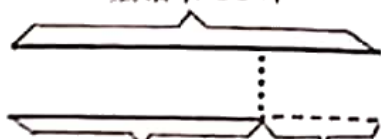
() 个三角形

- 4、在下面的钉子上画一个平行四边形和一个五边形。(4分)



五、解决问题。(35分)

- 1、(2分) 童话书 60 本



科技书? 本 比童话书少 17 本

$$\square \bigcirc \square = \square ()$$

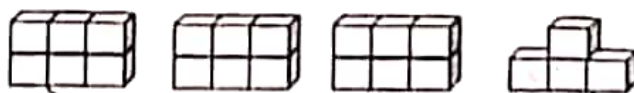
- 2、(2分)



? 朵

$$\square \bigcirc \square = \square ()$$

- 3、(4分)



? 个

$$\square \bigcirc \square \bigcirc \square = \square ()$$

$$\square \bigcirc \square \bigcirc \square = \square ()$$

4、把这些墨水瓶平均放在3个盒子里，每个盒子要放几瓶？（4分）



$$\square \bigcirc \square = \square \quad (\quad)$$

5、停车场有卡车38辆，有轿车24辆，有自行车25辆。

(1) 汽车一共有多少辆？（3分）

$$\square \bigcirc \square = \square \quad (\quad)$$

(2) 开走多少辆汽车就和自行车一样多了？（3分）

$$\square \bigcirc \square = \square \quad (\quad)$$

6、



? 元



4 元



5 元

(1) 买2个文具盒，一共需要多少元？（2分）

$$\square \bigcirc \square = \square \quad (\quad)$$

(2) 买5个布娃娃，带20元，够吗？（3分）

$$\square \bigcirc \square = \square \quad (\quad)$$

（先列式计算，再在正确答案后面的括号里打“√”）

够 () 不够 ()

(3) 小红用15元正好买了3枝钢笔，每枝钢笔多少元？（2分）

$$\square \bigcirc \square = \square \quad (\quad)$$

7、我摘了33个



小黄

我比小黄多摘9个



小灰

我摘了25个松果。



小白

(1) 小灰摘了多少个？（3分）

$$\square \bigcirc \square = \square \quad (\quad)$$

(2) 小白比小黄少摘多少个？（3分）

$$\square \bigcirc \square = \square \quad (\quad)$$

8、贝贝和他的3个好朋友去种树，每人种3棵，一共种了多少棵？（4分）

$$\square \bigcirc \square = \square \quad (\quad)$$